
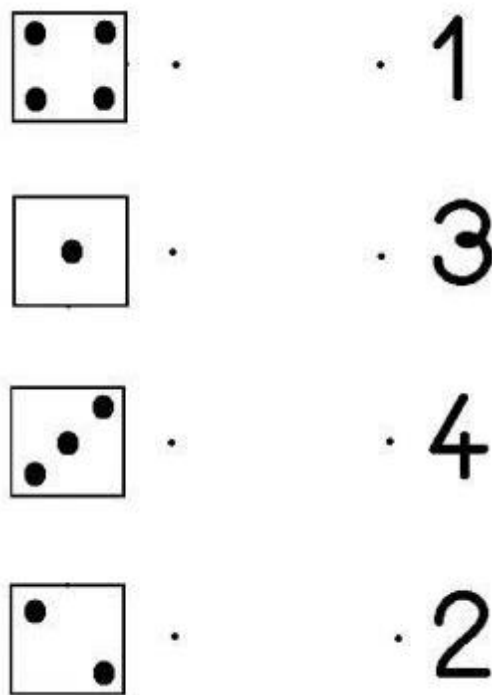


6.VP

1. Vyfarbi správný počet vajíček.



2. Prirad' bodky k číslu.



3. Vypočítaj.

$1+1=$ ___ $2-1=$ ___

$1+2=$ ___ $3-2=$ ___

$2+1=$ ___ $3-1=$ ___

$1+1=$ ___ $2-1=$ ___

$2+1=$ ___ $3-1=$ ___

$1+1=$ ___ $2-1=$ ___

$1+2=$ ___ $3-2=$ ___

4. Porovnaj čísla.

$1 \square 1$ $2 \square 1$

$1 \square 2$ $2 \square 3$

$2 \square 1$ $3 \square 1$

$3 \square 2$ $3 \square 3$


$2 \square 1$ $3 \square 1$

$3 \square 2$ $3 \square 3$

$1 \square 2$ $2 \square 3$

6.VP

1. Zakrúžkuj počet vecí v okienku.



2. Dopln číselný rad.

1, __, 3, __, 5

__, 2, __, 5

3. Prepíš čísla


1 _____

3 _____

2 _____

4 _____

3. Zakrúžkuj počet vecí v okienku.



4. Vypočítaj.

$2+1=$ ____

$3-1=$ ____

$1+1=$ ____

$2-1=$ ____

$1+2=$ ____

$3-1=$ ____

$2+1=$ ____

1. Vypočítaj.

$1+1=$ ___

$2-1=$ ___

$3-1=$ ___

$2+1=$ ___

$1+1=$ ___

$2-1=$ ___

$1+2=$ ___

$3-2=$ ___

$2+1=$ ___

$3-1=$ ___

$1+2=$ ___

$3-1=$ ___

$2+1=$ ___

$1+1=$ ___

$2-1=$ ___

2. Prirad' číslo k počtu.

3. Dopln' číselný rad.