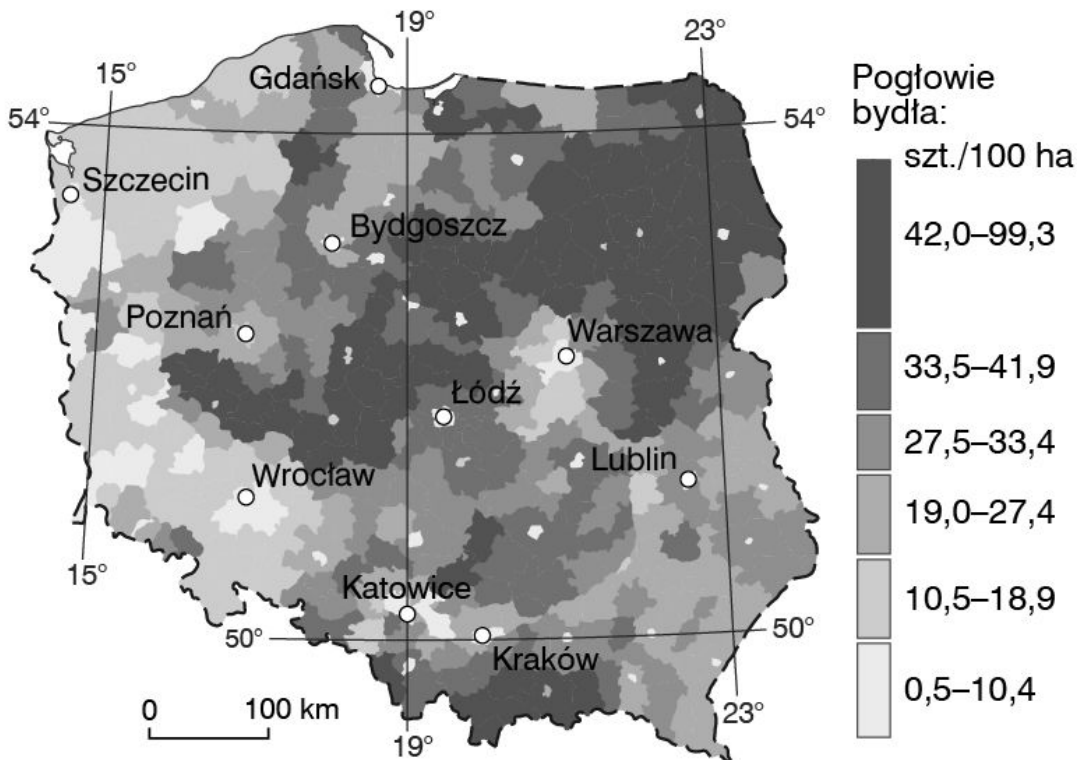


## Karta pracy - Produkcja zwierzęca

### Zadanie **1**

Na podstawie poniższej mapy zaznacz zdania zawierające prawdziwe informacje.



A. Obsada bydła na niektórych obszarach naszego kraju przekracza 42 szt./100 ha użytków rolnych.

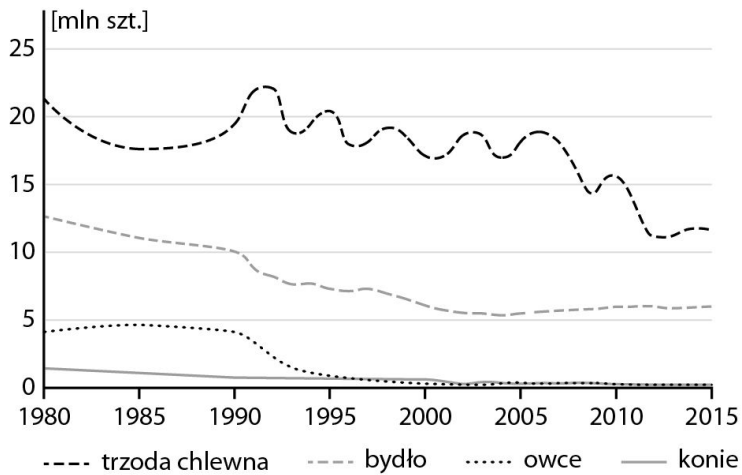
B. Głównymi obszarami hodowli bydła są między innymi środkowa część kraju i Nizina Podlaska.

C. W północno-wschodniej części kraju na sto hektarów użytków rolnych przypada mniej niż 10 szt. bydła.

D. Największe pogłowie bydła występuje w zachodniej części Polski.

Zadanie **2**

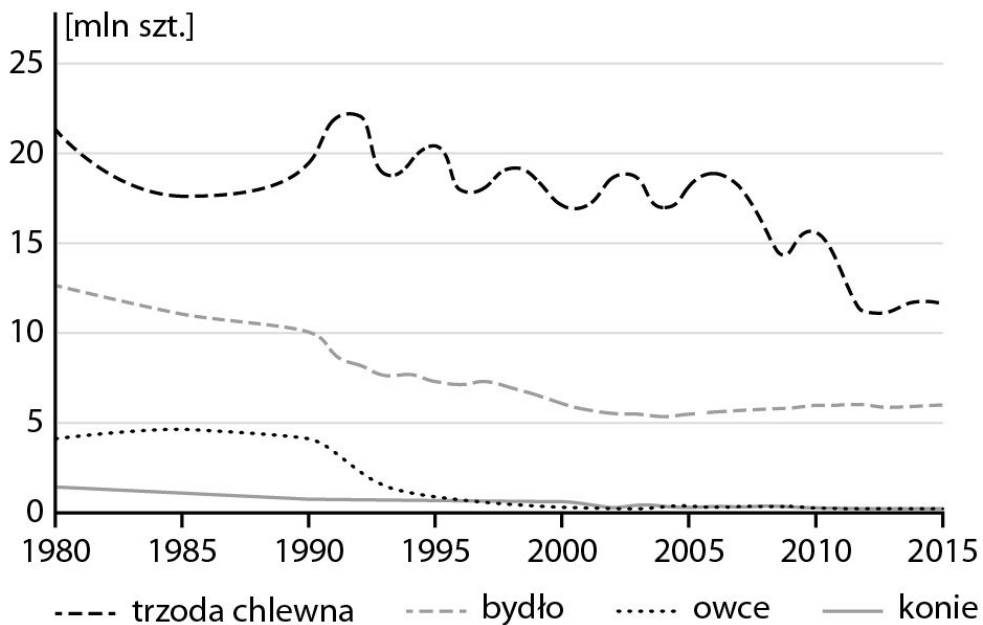
Oceń prawdziwość informacji na podstawie wykresu. Wybierz **P**, jeśli informacja jest prawdziwa, lub **F**, jeśli jest fałszywa.



|    |  |          |          |
|----|--|----------|----------|
| 1. | Pogłowie koni utrzymuje się na poziomie 3 mln szt.                         | <b>P</b> | <b>F</b> |
| 2. | Pogłowie trzody chlewnej w ciągu ostatnich 30 lat ulegało częstym zmianom. | <b>P</b> | <b>F</b> |
| 3. | Pogłowie bydła w 2015 roku wynosiło ok. 6 mln sztuk.                       | <b>P</b> | <b>F</b> |

Zadanie **3**

Na podstawie poniższego wykresu zaznacz zdania zawierające prawdziwe informacje.



- A. Pogłowie owiec utrzymuje się na poziomie 3 mln szt.
- B. Wielkość pogłowia trzody chlewnej w ostatnich trzydziestu latach nieznacznie się waha.
- C. Konie są coraz liczniej hodowanymi zwierzętami gospodarskimi.
- D. Pogłowie bydła w 2015 roku wynosiło ok. 6 mln szt.